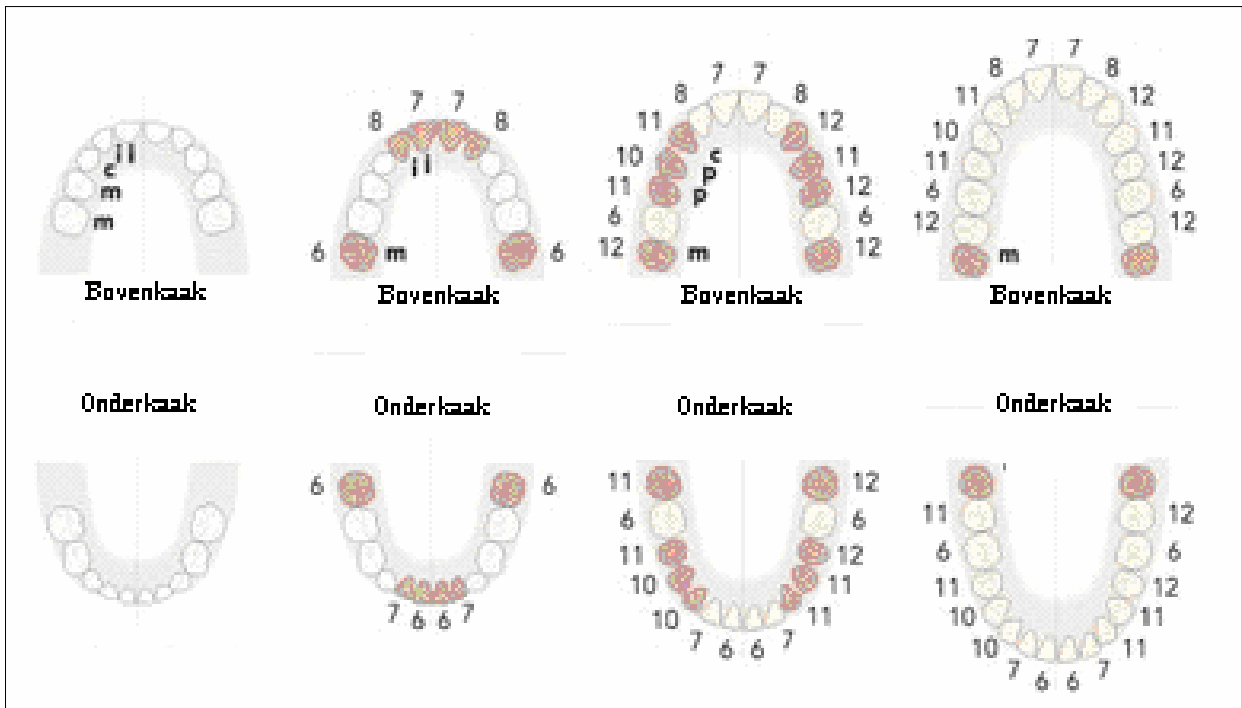


Naam: _____
Klas: _____

Kleine tanden en Grote tanden



Leerlingen editie

Werkbladen

WisselWereld

Naam: _____
Klas: _____

Werkblad 1: Foto's bekijken

Opdracht

Wat heeft het meisje op de eerste foto wel, dat het meisje op de tweede foto niet heeft? Dit is een doordenkertje!



Foto 1



Foto 2

Vul je antwoord(en) in:


Naam: _____

Klas: _____

Werkblad 2: Het gebit

Opdracht 1

- Klik op de link
- Lees de tekst op de website aandachtig
- Beantwoord onderstaande vragen



1. Wanneer begint de ontwikkeling van het melkgebit?

2. Wat is er al gevormd bij de geboorte?

3. Wanneer zal de tand doorbreken?

WisselWereld

Naam: _____

Klas: _____

4. Wanneer verschijnen de vier hoektanden?

5. Waar hebben kinderen veel last van tijdens het doorbreken van de melktanden?

6. Hoe kan de pijn verzacht worden?

Naam: _____

Klas: _____

Opdracht 2

- Klik op de link
- Lees de tekst op de website aandachtig
- Beantwoord onderstaande vragen



8. Wat is een wisselgebit?

9. Wanneer breken de eerste blijvende kiezen door?

10. Op welke plaats verschijnen deze eerste kiezen?

11. Wanneer verschijnen de eerste snijtanden?

WisselWereld

Naam: _____

Klas: _____

12. Wat zijn premolaren?

13. Waarom gaat het wisselen bij de meisjes sneller dan bij de jongens?

Naam: _____

Klas: _____

Werkblad 3: De opbouw van het gebit

Opdracht 1

- Klik op de link
- Lees de tekst op de website aandachtig
- Beantwoord onderstaande vragen



1. Wat bedoelen we met een kwadrant bij een gebit?

2. Welke tanden staan er in iedere kwadrant van het melkgebit?

3. Hoeveel tanden heeft een melkgebit?

Wisselwereld

Naam: _____

Klas: _____

4. Hoeveel tanden staan er in iedere kwadrant van het blijvend gebit?

5. Hoeveel tanden zijn er in een blijvend gebit?

6. Hoe noem je de kies die het kleinst is?



Naam: _____

Klas: _____

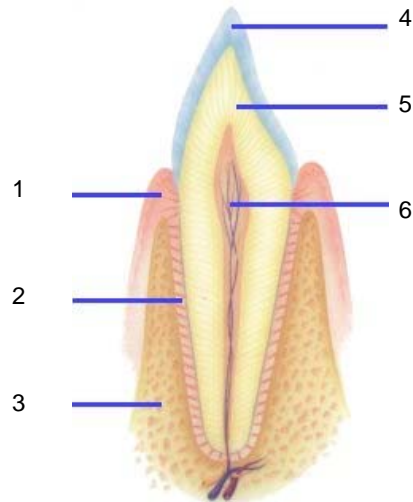
Werkblad 4: De opbouw van de tand

Opdracht 1

- Klik op de link
- Lees de tekst op de website aandachtig
- Beantwoord onderstaande vragen



1. Vul de delen van de tand in het kader in.



1.
2.
3.

WisselWereld

Naam: _____

Klas: _____

4.
5.
6.

2. Geef een korte omschrijving van:

Het glazuur:
De dentine:
De pulpa:

3. Wat zorgt voor het gevoel in de tand?

--

4. Wat loopt er vanuit de punt van de wortel de pulpa in?

--

5. Waardoor wordt het kaakbot en een deel van het dentine bedekt?

--